

සියලු ම හිමිකම් ඇවිරිණි]  
 முழுப் பதிப்புரிமையுடையது]  
 All Rights Reserved]

ශ්‍රී ලංකා විභාග දෙපාර්තමේන්තුව ශ්‍රී ලංකා විභාග දෙපාර්තමේන්තුව ශ්‍රී ලංකා විභාග දෙපාර්තමේන්තුව ශ්‍රී ලංකා විභාග දෙපාර්තමේන්තුව ශ්‍රී ලංකා විභාග දෙපාර්තමේන්තුව  
 இலங்கைப் பரீட்சைத் திணைக்களம் இலங்கைப் பரීட்சைத் திணைக்களம் இலங்கைப் பரීட்சைத் திணைக்களம் இலங்கைப் பரීட்சைத் திணைக்களம் இலங்கைப் பரීட்சைத் திணைக்களம்  
 Department of Examinations, Sri Lanka Department of Examinations, Sri Lanka Department of Examinations, Sri Lanka Department of Examinations, Sri Lanka Department of Examinations, Sri Lanka  
 Department of Examinations, Sri Lanka Department of Examinations, Sri Lanka Department of Examinations, Sri Lanka Department of Examinations, Sri Lanka Department of Examinations, Sri Lanka  
 21 S I

අධ්‍යයන පොදු සහතික පත්‍ර (උසස් පෙළ) විභාගය, 2004 අප්‍රේල්  
 கல்விப் பொதுத் தராதரப் பத்திர(உயர் தர)ப் பரீட்சை, 2004 ஏப்பிரல்  
 General Certificate of Education (Adv. Level) Examination, April 2004


ශ්‍රී ලංකා විභාග දෙපාර්තමේන්තුව ශ්‍රී ලංකා විභාග දෙපාර්තමේන්තුව ශ්‍රී ලංකා විභාග දෙපාර්තමේන්තුව ශ්‍රී ලංකා විභාග දෙපාර්තමේන්තුව ශ්‍රී ලංකා විභාග දෙපාර්තමේන්තුව  
 இலங்கைப் பரීட்சைத் திணைக்களம் இலங்கைப் பரීட்சைத் திணைக்களம் இலங்கைப் பரීட்சைத் திணைக்களம் இலங்கைப் பரීட்சைத் திணைக்களம் இலங்கைப் பரීட்சைத் திணைக்களம்  
 Department of Examinations, Sri Lanka Department of Examinations, Sri Lanka Department of Examinations, Sri Lanka Department of Examinations, Sri Lanka Department of Examinations, Sri Lanka  
 Department of Examinations, Sri Lanka Department of Examinations, Sri Lanka Department of Examinations, Sri Lanka Department of Examinations, Sri Lanka Department of Examinations, Sri Lanka  
 ආර්ථික විද්‍යාව I (I කොටස)  
 பொருளியல் I (பகுதி I)  
 Economics I (Part I)  
 පැය එකයි  
 ஒரு மணித்தியாலம்  
 One hour

විභාග අංකය : .....

සැලකිය යුතුයි :

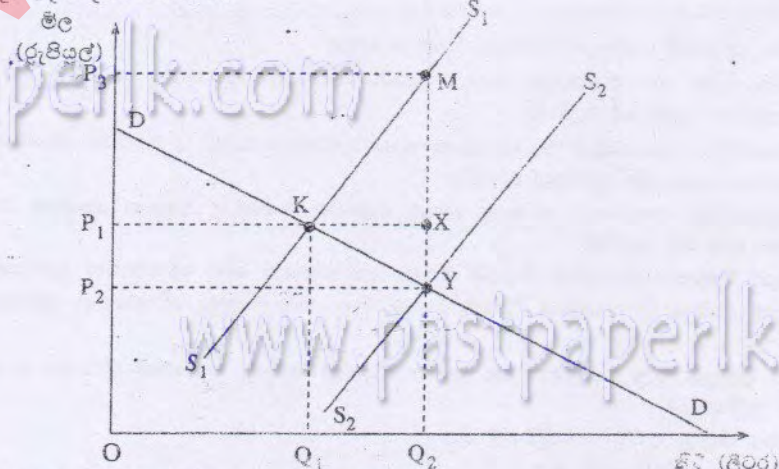
- \* මෙම කොටසේ ප්‍රශ්න 20 ක් ඇත. ඒ සියලු ප්‍රශ්න අනිවාර්ය වේ.
- \* එක් ප්‍රශ්නයකට ලකුණු 02 ක් ලැබෙන අතර, මුළු කොටසට ලකුණු 40 ක් හිමි වේ.
- \* එක් බහුවරණ ප්‍රශ්නයකට ආත්තේ එක් නිවැරදි පිළිතුරක් පමණි. එම පිළිතුර හඳුනාගෙන පිළිතුරට යටින් ඉරක් අඳින්න.
- \* මෙම ප්‍රශ්න පත්‍රයට පිළිතුරු දීමට පත්‍රයේ ම පැයපිය යුතුයි.
- \* නියමිත කාලය අවසන් වූ විට I හා II කොටස් එක් පිළිතුරු පත්‍රයක් වන සේ අමුණා ශාලාපිපතිට භාර දිය යුතුයි.

1. පහත සඳහන් රූප සටහනෙන් ප්‍රාග්ධන හා පාරිභෝගික භාණ්ඩ නිෂ්පාදනය කෙරෙන ආර්ථිකයක නිෂ්පාදන හැකියා මායිම් වක්‍රයක් පෙන්වනුට යොරේ.  
 මෙම ආර්ථිකය තම නිෂ්පාදන මට්ටම X ලක්ෂයෙහි සිට Y ලක්ෂය දක්වා විතැන් කරනු ලැබුවහොත්  
 (i) ප්‍රාග්ධන භාණ්ඩ, ඒකක 70 ක ආවස්ථික පිරිවැයක් ඇති වේ.  
 (ii) පාරිභෝගික භාණ්ඩ ඒකක 250 ක ආවස්ථික පිරිවැයක් ඇති වේ.  
 (iii) සේවා වියුක්තියෙහි වැඩිවීමක් සිදු වේ.  
 (iv) ආවස්ථික පිරිවැයක් ඇති නොවේ.  
 (v) පාරිභෝගික භාණ්ඩ නිෂ්පාදන අංශය වෙතින් ප්‍රාග්ධන භාණ්ඩ නිෂ්පාදන අංශය කරා සම්පත් මාරුවීමක් සිදු වේ.



2. මිශ්‍ර ආර්ථික ක්‍රමයක් යනු විස්තරයක් නළ හැක්කේ  
 (i) පාරිභෝගික හා නිෂ්පාදක යන දෙපාර්ශවයේ ම අවශ්‍යතා සපුරාගැනීමට හැකිවන ලෙස සම්පත් බෙදා වෙන්කරන ක්‍රමයක් ලෙසිනි.  
 (ii) සම්පත්වලින් කොටසක් පාරිභෝගික භාණ්ඩ නිෂ්පාදනයට ද අනෙක් කොටස ප්‍රාග්ධන භාණ්ඩ නිෂ්පාදනයට ද භාවිත කෙරෙන ක්‍රමයක් ලෙසිනි.  
 (iii) සම්පත්වලින් කොටසක් වෙළෙඳ පොළ බලවේග මගින් ද අනෙක් කොටස රාජ්‍ය අංශය මගින් ද බෙදා වෙන් කරන ක්‍රමයක් ලෙසිනි.  
 (iv) හුදෙක් ව්‍යවසායකයන්ගේ වියදම් තීරණ මත සම්පත් බෙදා වෙන්කරන ක්‍රමයක් ලෙසිනි.  
 (v) හුදෙක් පාරිභෝගිකයන්ගේ වියදම් තීරණ මත සම්පත් බෙදා වෙන්කරන ක්‍රමයක් ලෙසිනි.
3. පාරිභෝගික ඉල්ලුම් වක්‍රයක් අදින විට පහත සඳහන් කරුණු අතුරෙන් ස්ථාවර ව නොපවතින බවට උපකල්පනය කෙරෙනුයේ කුමක් ද?  
 (i) සලකා බලනු ලබන භාණ්ඩයේ මිල  
 (ii) අනුපූරක භාණ්ඩයන්හි මිල  
 (iii) ආදේශක භාණ්ඩයන්හි මිල  
 (iv) නිෂ්පාදන ආධිකාරීන්  
 (v) පාරිභෝගික ආදායම

4. වෙළෙඳ පොළ අසාර්ථක වීමක් යනු
  - (i) ඉල්ලුම, සැපයුමට සමාන නොවන තත්ත්වයකි.
  - (ii) වෙළෙඳ පොළ බලවේග මගින් සම්පත් කාර්යක්ෂමව බෙදා නොහරිනු ලබන තත්ත්වයකි.
  - (iii) කර්මාන්තයෙන් ආයතන ඉවත්වීම නිසා හටගන්නා තත්ත්වයකි.
  - (iv) මධ්‍යගත සැලසුම් සහිත ආර්ථික ක්‍රමයක් තුළ පමණක් දක්නට ලැබෙන තත්ත්වයකි.
  - (v) රජය විසින් වෙළෙඳ පොළ සමතුලිතයට වඩා වැඩි මිලක් නියම කරනු ලැබීම නිසා පැන නගින තත්ත්වයකි.
  
5. පරිගණකවල මිල පහළ බැසීම මෘදුකාංග (Software) වෙළෙඳ පොළ තුළ කවර බලපෑමක් ඇතිකරනු ලැබේ ද?
  - (i) ඉල්ලුමෙහි වැඩිවීමක්
  - (ii) සැපයුමෙහි වැඩිවීමක්
  - (iii) ඉල්ලුමෙහි අඩුවීමක්
  - (iv) සැපයුමෙහි අඩුවීමක්
  - (v) ඉල්ලුම් කරනු ලබන ප්‍රමාණයෙහි වැඩිවීමක්
  
6. නම්‍ය ඉල්ලුමක් හා අනම්‍ය සැපයුමක් පවතින වෙළෙඳ පොළක් මත බද්දක් පනවනු ලැබුවහොත්,
  - (i) බදුබරින් වැඩි කොටසක් ගැනුම්කරුවෝ දරති.
  - (ii) බදුබර මුද්‍රමගින් ම ගැනුම්කරුවෝ දරති.
  - (iii) බදුබරින් වැඩි කොටසක් අලෙවිකරුවෝ දරති.
  - (iv) ගැනුම්කරුවෝ සහ අලෙවිකරුවෝ සමසම ව බදුබර දරති.
  - (v) බදුබර දෙපිරිස අතර බෙදන ආකාරය නිර්ණය කළ නොහැකි ය.
  
7. කිසියම් භාණ්ඩයක මිල වෙනස්වීමක් මුළු අයහාරයෙහි වෙනසක් ඇති කරනු නොලැබේ නම්
  - (i) එම භාණ්ඩ සඳහා ඇති ඉල්ලුම නම්‍ය විය යුතු ය.
  - (ii) එම භාණ්ඩ සඳහා ඇති ඉල්ලුම අනම්‍ය විය යුතු ය.
  - (iii) මිල වෙනස්වීම කෙරෙහි ගැනුම්කරුවන් දඩි ප්‍රතිචාරයක් නො දක්විය යුතු ය.
  - (iv) භාණ්ඩය සඳහා ඇති ඉල්ලුම ඒකීය නම්‍ය විය යුතු ය.
  - (v) භාණ්ඩය සඳහා ඇති ඉල්ලුම ශුන්‍ය නම්‍ය විය යුතු ය.
  
8. ඉල්ලුම් පිටුසෙහි විකුණවීමක් නොමැතිව සහල් මිල ඉහළ යාමට පහත සඳහන් සාධක අතුරෙන් කවර සාධකයක් බලපෑ හැකි ද?
  - (i) වී ගොවිතේ ඵලදායීතාවය වැඩිවීමක්
  - (ii) පාරිභෝගිකයින්ගේ මූර්ත ආදායමෙහි වැඩිවීමක්
  - (iii) කෘෂිකාර්මික කම්කරුවන්ගේ වැටුප් වැඩිවීමක්
  - (iv) වී ගොවිතැන සඳහා දෙනු ලබන පොහොර සහනාධාරයෙහි වැඩිවීමක්
  - (v) සහල් ප්‍රධාන ආහාරය වශයෙන් භාවිතයට ගැනෙන මුළු ජනගහනයේ වැඩිවීමක්
  
9. පහත සඳහන් රූප සටහනෙහි දක්වෙන ආකාරයට ශ්‍රී ලංකාවේ කිරි නිෂ්පාදනය නගා සිටුවීම සඳහා සහනාධාරයක් ලබාදීමට රජය තීරණය කරනු ලැබිය යුතු යි සිතන්න.



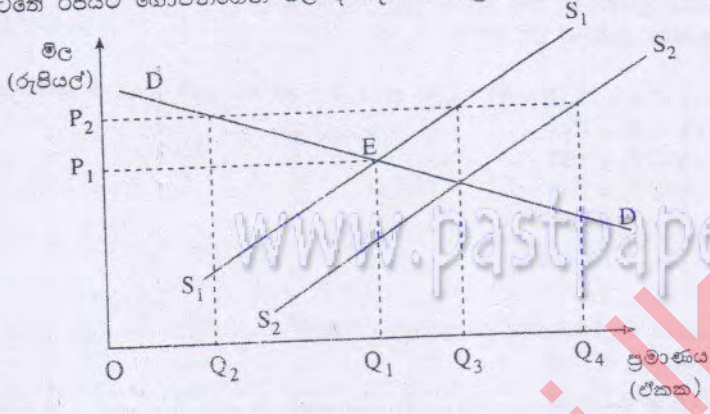
සහනාධාරය සඳහා රජයට දරන්නට සිදුවන පිරිවැය හඳුනාගන්න.

- (i)  $P_2P_3MY$       (ii)  $OP_2YQ_2$       (iii)  $OP_1XQ_2$       (iv)  $OP_3MQ_2$       (v)  $P_1P_3MX$

[ ඉගැන්වීම් පිටුව බලන්න

10. පහත සඳහන් රූප සටහනෙහි වී සඳහා ඇති සැපයුම් වක්‍රය  $S_1S_1$  වලින් ද ඉල්ලුම් වක්‍රය  $DD$  වලින් ද පෙන්නුම් කරන අතර වර්තමානයෙහි වී වෙළෙඳ පොළ සමතුලිතය  $E$  ලක්ෂ්‍යයෙන් පිලිබිඹු කෙරේ. මේ අතර රජය වී සඳහා  $OP_2$  අවම සහතික මිලක් නියම කර කිසියම් අතිරික්ත වී නිෂ්පාදනයක් ඇත්නම් එම මිලට එයද මිල දී ගන්නා බවට තහවුරු කරයි. ඊළඟ වර්ෂයේ දී වී නිෂ්පාදනය වැඩි වන අතර රූප සටහනෙහි දක්වෙන අන්දමට සැපයුම් වක්‍රය  $S_2S_2$  දක්වා විතැන් වේ.
- වැඩි වූ නිෂ්පාදන තත්ත්වය යටතේ රජයට ගොවීන්ගෙන් මිල දී ගැනීමට සිදුවන වී ප්‍රමාණය කොපමණ ද?

- (i)  $Q_3$  සිට  $Q_4$  දක්වා
- (ii)  $Q_2$  සිට  $Q_3$  දක්වා
- (iii)  $Q_2$  සිට  $Q_4$  දක්වා
- (iv)  $Q_1$  සිට  $Q_3$  දක්වා
- (v)  $Q_1$  සිට  $Q_4$  දක්වා

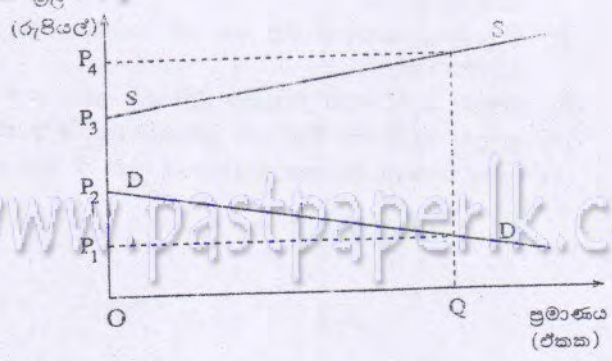


11. ආදායම අඩු වන විට  $A$  භාණ්ඩයේ ඉල්ලුම් ප්‍රමාණය වැඩි වේ නම්,
- (i)  $A$  අනුපූරක භාණ්ඩයකි.
  - (ii)  $A$  ආදේශක භාණ්ඩයකි.
  - (iii)  $A$  සාමාන්‍ය භාණ්ඩයකි.
  - (iv)  $A$  බාල භාණ්ඩයකි.
  - (v)  $A$  අනමය භාණ්ඩයකි.

12. පූර්ණ තරගකාරී කර්මාන්තයක් තුළ තනි නිෂ්පාදන ආයතනයක් මුහුණදෙන ඉල්ලුම් වක්‍රයෙහි තමානාථය
- (i) ශුන්‍ය වේ, මක්නිසාදයත් ආයතනය නිෂ්පාදනය කරනුයේ තමන්ට ම සුවිශේෂී වූ භාණ්ඩයක් වන බැවිනි.
  - (ii) ශුන්‍ය වේ, මක්නිසාදයත් බොහෝ ආයතන නිෂ්පාදනය කරනුයේ සමජාතීය භාණ්ඩ වන බැවිනි.
  - (iii) අපරිමිත වේ, මක්නිසාදයත් ආයතනය නිෂ්පාදනය කරනුයේ තමන්ට ම සුවිශේෂී වූ භාණ්ඩයක් වන බැවිනි.
  - (iv) අපරිමිත වේ, මක්නිසාදයත් බොහෝ ආයතන නිෂ්පාදනය කරනුයේ සමජාතීය භාණ්ඩ වන බැවිනි.
  - (v) ශුන්‍යයේ සිට අපරිමිතය දක්වා වෙනස් වේ. මක්නිසාදයත් කර්මාන්තය තුළ ආයතන විශාල සංඛ්‍යාවක් සිටින බැවිනි.

13. කිසියම් නිෂ්පාදන මට්ටමක දී ආයතනයක් සැමවිට ම නිෂ්ප්‍රමාණික ලාභ උපයනුයේ
- (i) ආන්තික අයහාරය ආන්තික පිරිවැයට සමානවන බැවිනි.
  - (ii) මුළු අයහාරයට වඩා මුළු පිරිවැය විශාල බැවිනි.
  - (iii) සාමාන්‍ය පිරිවැයට වඩා සාමාන්‍ය අයහාරය විශාල වන බැවිනි.
  - (iv) සාමාන්‍ය අයහාරයට වඩා සාමාන්‍ය විටලය පිරිවැය අඩු බැවිනි.
  - (v) සාමාන්‍ය පිරිවැය අඩු වෙමින් පවතින බැවිනි.

14. දී ඇති රූප සටහන අනුව සෑම මිලක දී ම කිසියම් භාණ්ඩයක් සඳහා ඇති වෙළෙඳ පොළ ඉල්ලුම් ප්‍රමාණය සැපයුම් ප්‍රමාණයට වඩා අඩු මට්ටමක පවතී. මහජනයා විසින්  $OQ$  ඒකක ප්‍රමාණය මිල දී ගත යුතු යැයි රජය සලකන්නේ නම්;
- (i) මිල  $OP_1$  ප්‍රමාණයට වඩා වැඩි නො විය යුතු යැයි නියෝග කිරීමට සිදු වේ.
  - (ii)  $OP_4$  මිල අය කිරීමට සැපයුම්කරුවන්ට අවසරදීමට සිදු වේ.
  - (iii) අලෙවි කරන සෑම ඒකකයකට ම  $P_2P_3$  නිෂ්පාදන පිහිටාධාරයක් සැපයීමට සිදු වේ.
  - (iv) අලෙවි කරන සෑම ඒකකයකට ම  $P_1P_3$  නිෂ්පාදන පිහිටාධාරයක් සැපයීමට සිදු වේ.
  - (v) අලෙවි කරන සෑම ඒකකයකට ම  $P_1P_4$  නිෂ්පාදන පිහිටාධාරයක් සැපයීමට සිදු වේ.



15. ආර්ථික විද්‍යාත්මක නිර්වචනය අනුව ශුද්ධ ආයෝජනය තුළට ඇතුළත් කළ හැක්කේ ක සඳහන් දෑ අතුරින් කවරක් ද?

- (i) මෘදුක මිල දී ගැනීම සඳහා රජය දරන වියදම
- (ii) පොදු සීමිත සමාගම්වල කොටස් මිල දී ගැනීම
- (iii) ජාතික ඉතිරිකිරීමේ බැංකුවේ මහජනයා සතු ඉතුරුම්
- (iv) යල් පැනගිය උපකරණ නව යන්ත්‍ර සූත්‍ර මගින් ප්‍රතිසම්පාදනය කිරීම
- (v) නව කර්මාන්ත පුරයක් ඉදි කිරීම.

16. පාරිභෝජන ශ්‍රිතය:  $C = 0.75(Y - T) + 100$  ක් ද  $T = 50$  වේ නම්, ඉතුරුම් ශ්‍රිතය වනුයේ

- (i)  $S = 0.75(Y - T) - 100$
- (ii)  $S = 0.75(Y - T) + 150$
- (iii)  $S = 0.25(Y - T) - 100$
- (iv)  $S = 0.25(Y - T) - 175$
- (v)  $S = -0.25(Y - T) + 100$

17. පහත සඳහන් ප්‍රකාශ අතුරින් සාවද්‍ය ප්‍රකාශය වනුයේ

- (i)  $Y = C + I + G + X - M$
- (ii)  $I + G + X = S + T + M$
- (iii)  $Y = C + I + G + NX$  ( $NX =$  ශුද්ධ අපනයන)
- (iv)  $Y + M = C + I + G + X$
- (v)  $Y = C + S + T$

18. ශුද්ධ පොදු භාණ්ඩයක තෙහෙරිගික ලක්ෂණයක් වන්නේ,

- (i) ආවේණික පිරිවැයට වඩා අඩු මිලකට රාජ්‍ය ආශය මගින් පමණක් සපයනු ලබන භාණ්ඩයක් වීමයි.
- (ii) වෙළෙඳ පොළ මිලට වඩා අඩු මිලකට පෞද්ගලික ආශය මගින් පමණක් සපයනු ලබන භාණ්ඩයක් වීමයි.
- (iii) වෙළෙඳ පොළ මිලට වඩා අඩු මිලකට පෞද්ගලික හා රාජ්‍ය යන ආශ දෙක මගින් ම සපයනු ලබන භාණ්ඩයක් වීමයි.
- (iv) එක් අයෙකුගේ පරිභෝජනය නිසා අන් අයගේ පරිභෝජනය අහිමි නොවන භාණ්ඩයක් වීමයි.
- (v) නිෂ්පාදනයේ දී ආවේණික පිරිවැයක් දැරීමට සිදු නොවන භාණ්ඩයක් වීමයි.

19. පහත සඳහන් දෑ අතුරින් සංකෝචනාත්මක රාජ්‍ය මූල්‍ය ප්‍රතිපත්තියක් ඇගයීමට කටයුතු කළේ කවරක් ද?

- (i) බදු අනුපාතික ඉහළ දැමීමක් සහ රාජ්‍ය වියදම් අඩු කිරීමක්
- (ii) බදු අනුපාතික ඉහළ දැමීමක් සහ පොළී අනුපාතික ඉහළ දැමීමක්
- (iii) බදු අනුපාතික පහළ දැමීමක් සහ රාජ්‍ය වියදම් ඉහළ දැමීමක්
- (iv) රාජ්‍ය වියදම් අඩු කිරීමක් සහ පොළී අනුපාතික ඉහළ දැමීමක්
- (v) අයවැය හිඟය වැඩි කිරීමක් සහ එම හිඟය විදේශීය ණය ලබා ගැනීම මගින් සියවීමක්

20. ඉල්ලුම් නීතියෙන් ප්‍රකාශ වන්නේ,

- (i) කිසියම් භාණ්ඩයක මිල සහ එම භාණ්ඩය ඉල්ලුම් කරනු ලබන ප්‍රමාණය අතර අනුලෝම සම්බන්ධතාවක් පවතින බව ය.
- (ii) කිසියම් භාණ්ඩයක මිල සහ එම භාණ්ඩය ඉල්ලුම් කරනු ලබන ප්‍රමාණය අතර ප්‍රතිලෝම සම්බන්ධතාවක් පවතින බව ය.
- (iii) ඉල්ලුම වැඩිවීමෙන් මිල සහ ප්‍රමාණය ඉහළ යාමක් සිදුවන බව ය.
- (iv) ඉල්ලුම අඩුවීමෙන් මිල සහ ප්‍රමාණය අඩුවීමක් සිදුවන බව ය.
- (v) ඉහත සඳහන් (iii) සහ (iv) ප්‍රකාශ දෙක ම බව ය.

\*\*

ශ්‍රී ලංකා විභාග දෙපාර්තමේන්තුව ශ්‍රී ලංකා විභාග දෙපාර්තමේන්තුව ශ්‍රී ලංකා විභාග දෙපාර්තමේන්තුව ශ්‍රී ලංකා විභාග දෙපාර්තමේන්තුව ශ්‍රී ලංකා විභාග දෙපාර්තමේන්තුව  
 Department of Examinations, Sri Lanka Department of Examinations, Sri Lanka Department of Examinations, Sri Lanka Department of Examinations, Sri Lanka Department of Examinations, Sri Lanka  
 Department of Examinations, Sri Lanka

**අධ්‍යයන පොළ සහතික පත්‍ර (උසස් පෙළ) විභාගය, 2004 අප්‍රේල්**  
**கல்விப் - பொதுத் தராதரப் பத்திர(உயர் தர)ப் பரீட்சை, 2004 ஏப்பிரல்**  
**General Certificate of Education (Adv. Level) Examination, April 2004**

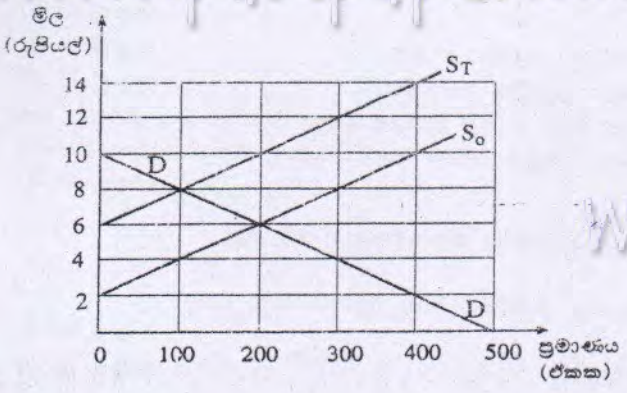
ශ්‍රී ලංකා විභාග දෙපාර්තමේන්තුව ශ්‍රී ලංකා විභාග දෙපාර්තමේන්තුව ශ්‍රී ලංකා විභාග දෙපාර්තමේන්තුව ශ්‍රී ලංකා විභාග දෙපාර්තමේන්තුව ශ්‍රී ලංකා විභාග දෙපාර්තමේන්තුව  
 Department of Examinations, Sri Lanka Department of Examinations, Sri Lanka Department of Examinations, Sri Lanka Department of Examinations, Sri Lanka Department of Examinations, Sri Lanka  
 Department of Examinations, Sri Lanka

**ආර්ථික විද්‍යාව I (II කොටස)** පැය දෙකයි  
**பொருளியல் I (பகுதி II)** இரண்டு மணித்தியாலம்  
**Economics I (Part II)** Two hours

\* "අ" උප කොටසින් ප්‍රශ්න දෙකක් ද,  
 "ආ" උප කොටසින් ප්‍රශ්න දෙකක් ද, තෝරාගෙන ප්‍රශ්න හතරකට පමණක් පිළිතුරු සපයන්න.

"අ" උප කොටස  
 (මෙම කොටසින් ප්‍රශ්න දෙකක් තෝරාගන්න.)

- කිසියම් රටක්, මෝටර් රථ සහ පරිගණක යන භාණ්ඩ සංයෝජනය නිෂ්පාදනය කරමින් වැඩිවන ආවේණික පිරිවැය සහිත නිෂ්පාදන භූකීයා වක්‍රයක් මත උක්ෂ්‍යයක යිටි. නිරස් අක්ෂයෙහි මෝටර් රථ සහ නිරස් අක්ෂයෙහි පරිගණක දක්වන සේ අදින ලද එම නිෂ්පාදන භූකීයා වක්‍රයට පහත සඳහන් දෑ කරන බලපෑම හේතු සහිත ව වෙන් වෙන් වශයෙන් රූප සටහන් මගින් පෙන්වුම් කරන්න.
  - එම රටින් විශාල ප්‍රමාණයක පුහුණු පරිගණක ශිල්පීන්ගේ ශුද්ධ බාහිර සංක්‍රමණයක් (net out-migration) සිදුවිය. (ලකුණු 03 යි)
  - පරිගණක නිෂ්පාදන අංශයේ සේවකයන්ගේ ඵලදායීතාවේ පහළ වැටීමක් සිදුවූවත් පරිගණක හා මෝටර් රථ කර්මාන්ත දෙකෙන් එකකවත් සේවානියුක්තියේ වෙනසක් සිදු නොවීය. (ලකුණු 03 යි)
  - මෝටර් රථ නිෂ්පාදන අංශයේ හටගත් තාක්ෂණික දියුණුවක් නිසා එම අංශයෙහි විඳිකියා තත්ත්වයක් ඇතිවිය. එහෙත් පරිගණක නිෂ්පාදන අංශයට එමගින් කිසිදු බලපෑමක් ඇති නොවීය. (ලකුණු 03 යි)
  - ඉල්ලුම අඩු වීම නිසා මෝටර් රථ නිෂ්පාදන අංශයෙහි විඳිකියා තත්ත්වයක් ඇතිවිය. එහෙත් පරිගණක සඳහා ඉල්ලුමෙහි කිසිදු වෙනසක් සිදු නොවීය. (ලකුණු 03 යි)
  - පරිගණක සඳහා ඉල්ලුම වැඩි වූ අතර මෝටර් රථ සඳහා ඉල්ලුම අඩු විය. එහෙත් කර්මාන්ත දෙකේ ම සේවික නියුක්තියේ කිසිදු වෙනසක් සිදු නොවීය. (ලකුණු 03 යි)
- වෙළෙඳ පොළ ආර්ථිකයක් තුළ මිලෙහි කාර්යයන් කවරේ ද? (ලකුණු 02 යි)
  - සැලසුම්ගත ආර්ථික ක්‍රමයක වාසි සහ අවාසි සඳහන් කරන්න. (ලකුණු 04 යි)
  - නිදහස් වෙළෙඳ පොළ ආර්ථික ක්‍රමයක් තුළ රජයේ මැදිහත්වීම් සාධාරණීකරණය කළ හැක්කේ කවර හේතු නිසා ද? (ලකුණු 04 යි)
  - ආර්ථික ලාභ, ගණකාධිකරණ ලාභවලින් වෙනස්වන්නේ කෙසේ දැයි පැහැදිලි කරන්න. (ලකුණු 04 යි)
- නිෂ්පාදකයන් මත ඒකක බද්දක් පැනවීම නිසා ඇති වන ප්‍රතිඵලයක පහත දක්වන රූප සටහනෙන් පෙන්වුම් කෙරේ. එය ඇසුරෙන් අසා ඇති දැනටත් පිළිතුරු සපයන්න.



- බද්දට පෙර සහ බද්දට පසු සමතුලිත මිල සහ ප්‍රමාණය කවරේ ද? (ලකුණු 02 යි)
- පාරිභෝගිකයන් විසින් දරනු ලබන මුළු බදු මුදල කොපමණ ද? (ලකුණු 02 යි)
- බද්ද පැනවූ පසු අය කරගත හැකි මුළු බදු අයභාරය කොපමණ ද? (ලකුණු 03 යි)
- වෙළෙඳ පොළ සමතුලිතව පවතින විට බද්දට පෙර නිෂ්පාදක අතිරික්තය කොපමණ ද? බද්දට පසු නිෂ්පාදක අතිරික්තය කොපමණ ද? (ලකුණු 04 යි)
- වෙළෙඳ පොළ සමතුලිතව පවතින විට බද්දට පෙර පාරිභෝගික අතිරික්තය කොපමණ ද? බද්දට පසු පාරිභෝගික අතිරික්තය කොපමණ ද? (ලකුණු 04 යි)

ඉදිරිපිට පිටුව බලන්න

4. වෙළෙඳ පොළ සමීක්ෂණයක දී X භාණ්ඩයට ඇති ඉල්ලුම පිළිබඳ ව සහන සඳහන් තොරතුරු ලබාගෙන ඇතැයි සලකන්න.

- (අ) X භාණ්ඩයේ මිල 25% කින් වැඩි වන විට X භාණ්ඩයෙන් අලෙවි වන ප්‍රමාණය 5% කින් අඩු වේ.
  - (ආ) පාරිභෝගික ආදායම 4% කින් වැඩි වන විට X භාණ්ඩයෙන් අලෙවි වන ප්‍රමාණය 8% කින් වැඩි වේ.
  - (ඇ) Y භාණ්ඩයෙහි මිල 1% කින් වැඩි වන විට X භාණ්ඩයෙන් අලෙවි වන ප්‍රමාණය 5% කින් අඩු වේ.
- ඉහත සඳහන් තොරතුරු පදනම් කර ගනිමින් පහත සඳහන් ප්‍රශ්නවලට පිළිතුරු සපයන්න.
- (i) X භාණ්ඩයෙහි ආදායම් ඉල්ලුම් නම්‍යතාව කොපමණ ද? (ලකුණු 03 යි)
  - (ii) X භාණ්ඩයෙහි මිල ඉල්ලුම් නම්‍යතාව කොපමණ ද? (ලකුණු 03 යි)
  - (iii) Y භාණ්ඩයට සාපේක්ෂව X භාණ්ඩයෙහි හරස් මිල ඉල්ලුම් නම්‍යතාව කොපමණ ද? (ලකුණු 03 යි)
  - (iv) X භාණ්ඩය, Y භාණ්ඩයේ ආදේශකයක් වේ ද? නොඑසේ නම් අනුසූරක භාණ්ඩයක් වේ ද? (ලකුණු 03 යි)
  - (v) X භාණ්ඩය සඳහා ඇති ඉල්ලුම නම්‍ය ද, අනම්‍ය ද? (ලකුණු 03 යි)

"ආ" උප කොටස  
 (මෙම කොටසින් ප්‍රශ්න දෙකක් තෝරාගන්න.)

5. දෙන ලද වර්ෂයක් සඳහා කිසියම් ආර්ථිකයක ජාතික ගිණුම් පිළිබඳ දත්ත පහත දක්වේ. (සංඛ්‍යා රු. බිලියන වලිනි.)

පෞද්ගලික පරිභෝජනය	450
ශ්‍රමිකයන්ගේ ඉපයීම්	375
අපනයන	120
ශුද්ධ විදේශ සාධක ආදායම්	30
රජයේ මිල දී ගැනීම්	60
දළ ආයෝජන	100
ආනයන	160
ශුද්ධ වක්‍ර බදු	15
ශුද්ධ පොලී	60
ලාභ	70
බදු කැපී ආදායම්	40
කුටුම්භ සඳහා සංක්‍රාම ගෙවීම්	5
පෞද්ගලික බදු	20

- (i) (අ) දළ ජාතික නිෂ්පාදිතය (ආ) දළ දේශීය නිෂ්පාදිතය (ඇ) ශුද්ධ දේශීය නිෂ්පාදිතය (ඈ) ජාතික ආදායම හා (ඉ) වැය කළ හැකි පෞද්ගලික ආදායම ගණනය කරන්න. (ලකුණු 02 බැගින්)
- (ii) අදාළ වර්ෂයේ ක්ෂයවීම්වල ප්‍රමාණය කොපමණ ද? (ලකුණු 02 යි)
- (iii) ශ්‍රී ලංකාවේ කුටුම්භ සඳහා රජයෙන් සපයනු ලබන සංක්‍රාම ගෙවීම් තුළ අන්තර්ගත ප්‍රධාන දෑ සඳහන් කරන්න. (ලකුණු 03 යි)

6. (i) ආන්තික පරිභෝජන නැමියාවේ හා ආන්තික ඉතුරුම් නැමියාවේ වෙනස පැමිණි ම 1 ව සමාන වන්නේ ඇයි? (ලකුණු 03 යි)
- (ii) දළ දේශීය නිෂ්පාදිතය සඳහා ගණනය නොකෙරෙන සහ ඒ නිසා ම ඒ තුළ අන්තර්ගත නොවන ඵලදායී ආර්ථික ක්‍රියාවන් කවරේ ද? (ලකුණු 04 යි)
- (iii) විවෘත ආර්ථිකයක ආදායමේ වෘත්ත ප්‍රවාහ ආකෘතියක ඇතුළත් "විදීම" සහ "කාන්දුවීම" යන්නෙන් කුමක් අදහස් වේ දැයි පැහැදිලි කරන්න. (ලකුණු 04 යි)
- (iv) රාජ්‍ය අංශයකින් තොර සංචාන ආර්ථිකයක ආන්තික පරිභෝජන නැමියාවේ අගය 0.8 ක්, රුපියල් බිලියන 100 කින් ආදායමක් වියදම් වැඩිවීමක් නිසා පුළුල් වට හතර තුළ හටගන්නා ගුණක ප්‍රතිඵල ගණනය කරන්න. (ලකුණු 04 යි)

7. (i) බාහිරතා යන්නෙන් කුමක් අදහස් වේ ද? (ලකුණු 04 යි)
- (ii) පෞද්ගලික පිරිවැය සහ සමාජීය පිරිවැය අතර වෙනස පෙන්වා දෙන්න. (ලකුණු 04 යි)
- (iii) ධන බාහිරතා සහිත ආර්ථික ක්‍රියාවන් දෙකක් සඳහා උදාහරණ සපයන්න. (ලකුණු 02 යි)
- (iv) බාහිර ප්‍රතිලාභ ජනනය කෙරෙන ආර්ථික ක්‍රියාවක් නිසා නිදහස් වෙළෙඳ පොළ බලවේග මත තීරණය වන නිමැවුම් මට්ටම සහ සමාජීය වශයෙන් කාර්යක්ෂම නිමැවුම් මට්ටම අතර පවත්නා වෙනස යෝග්‍ය ප්‍රස්තාර සටහනක් මගින් පැහැදිලි කරන්න. (ලකුණු 05 යි)

8. "පසුගිය දස වසර තුළ සමස්ත අයවැය හිඟයේ සාමාන්‍යය, දළ දේශීය නිෂ්පාදනයෙන් 9% වේ."  
 (ශ්‍රී ලංකා මහ බැංකුවේ වාර්ෂික වාර්තාව 2002)
- (i) වර්ෂ 1990 ට පසු ශ්‍රී ලංකාවේ විශාල අයවැය හිඟයක් ඇතිවීමට බලපෑ ප්‍රධාන හේතු කවරේ ද? (ලකුණු 05 යි)
  - (ii) විශාල අයවැය හිඟයන්හි ආර්ථික පිරිවැය විමසන්න. (ලකුණු 05 යි)
  - (iii) මෑත වර්ෂවල රාජ්‍ය මූල්‍ය විනය ස්ථාපිත කිරීම සඳහා රජය විසින් ගනු ලැබූ ප්‍රධාන ක්‍රියාමාර්ග මොනවා ද? (ලකුණු 05 යි)

\*\*\*